

Présentiel - 1^{ère}

FICHE 3

Exemple d'utilisation du microcontrôleur Arduino™ - Mesures de distances et mesure de la célérité des ultrasons -

Capacité numérique exigible (BO 1^{ère}) :

« Déterminer, par exemple à l'aide d'un microcontrôleur ou d'un smartphone, une distance ou la célérité d'une onde.

Illustrer l'influence du milieu sur la célérité d'une onde. »

Objectifs de la séquence : Analyser et utiliser un télémètre à ultrasons comportant un microcontrôleur (séance n°1). Déterminer la célérité d'une onde (séance n°2) puis déterminer et afficher une distance (séance n°3). Illustrer enfin, de manières qualitative et quantitative, l'influence de la température de l'air sur la célérité d'une onde (séance n°4).

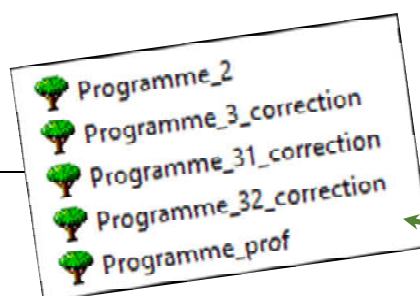
Programme de 1^{ère} : Thème « Ondes et signaux » 1. Ondes mécaniques

Compétences travaillées :

- S'approprier
- Analyser/Raisonner
- Réaliser
- Valider
- Communiquer

Prérequis :

- Onde mécanique progressive.
Grandeurs physiques associés.
- Célérité d'une onde. Retard.



Organisation du présent document :

- Pages 1 à 5 : Présentation de la séquence / Matériel / Logiciels / rôle des programmes Arduino
- Pages 6 à 11 : **Séance n°1** (FICHES prof ; FICHES élèves)
- Pages 12 à 16 : **Séance n°2** (FICHES prof ; FICHES élèves)
- Pages 17 à 26 : **Séance n°3** (FICHES prof ; FICHES élèves)
- Pages 27 à 31 : **Séance n°4** (FICHES prof ; FICHES élèves)

Ressources :

- TRAAM 2017-2018 <http://spc.ac-amiens.fr/688-mesurer-des-distances.html>
- GRIESP

Mots clefs :

- Ondes et signaux, ondes mécaniques, microcontrôleur, programmation, compétences expérimentales et numériques.

Matériel : Annexe 1


- 1 Maquette pédagogique PB100 (distribuée par PIERRON catalogue 2019).
- Ordinateur avec le logiciel Arduino pour modifier et téléverser des programmes.
- Un mètre de maçon.
- Un dossier zippé contenant tous les programmes Arduino pour la séquence (programme à donner aux élèves pour modification des paramètres et fichiers corrigés).

Présentation de la séquence

Situation déclenchante

Le Programme_prof (ANNEXE 2) est téléversé dans une maquette pédagogique PB100, pour la démo prof. Le professeur simule ainsi le « radar de recul » d'une voiture.

L'afficheur indique la distance entre le dispositif et un obstacle. Les DEL et le buzzer de la maquette prof sont actifs.



Problématiques

Un échange entre l'enseignant et la classe peut conduire à dégager différentes problématiques :

Comment fonctionne un « radar de recul » de voiture ?

Comment fabriquer un tel dispositif avec un microcontrôleur ?

Comment déterminer la célérité des ondes ultrasonores avec ce dispositif ?

Comment mesurer et afficher la distance entre ce dispositif et un obstacle ?

Les conditions météorologiques influencent-elles le fonctionnement de ce dispositif ?

Organisation de la séquence :

- **Séance 1 : Activité documentaire avec approche expérimentale**
« Principe de fonctionnement d'un télémètre à ultrasons et fabrication du dispositif »
- **Séance 2 : Activité expérimentale**
« Détermination de la célérité d'une onde à l'aide d'un microcontrôleur »
- **Séance 3 : Activité numérique**
« Programmation du microcontrôleur pour afficher une distance »
- **Séance 4 : Activité expérimentale**
« Illustrer l'influence de la température de l'air sur la célérité d'une onde »

Intérêts pratiques de cette séquence :

- Pour l'élève, travailler les compétences de la démarche expérimentale :
Au cours de la séance n°1, l'élève est amené dans un premier temps à ANALYSER le fonctionnement de la chaîne de mesure d'une situation réelle et d'usage courant : le radar de recul d'un véhicule. Ensuite, séance n°2, l'élève doit établir et mettre en place un protocole expérimental pour déterminer la célérité d'une onde. Il est donc amené à RAISONNER, REALISER, VALIDER sa démarche et enfin à COMMUNIQUER ses résultats.
Dans la séance n°3, les compétences précédentes sont à nouveau mobilisées pour modifier quelques lignes de programme afin d'afficher une autre grandeur physique que celle affichée initialement. Enfin, dans la séance n°4, l'élève met en évidence l'influence du milieu de propagation sur la célérité d'une onde.
- L'objectif de cette FICHE 3 est de mettre à disposition des enseignants une séquence d'enseignement clé en main, mêlant activités numérique et expérimentale contextualisées. Le matériel pédagogique prêt à l'emploi proposé, ainsi que les programmes et corrections fournis et adossés aux activités pédagogiques ci-dessous, doivent permettre à l'enseignant de débiter sereinement cette première année d'enseignement en intégrant le microcontrôleur.

ANNEXE 1 : Matériel

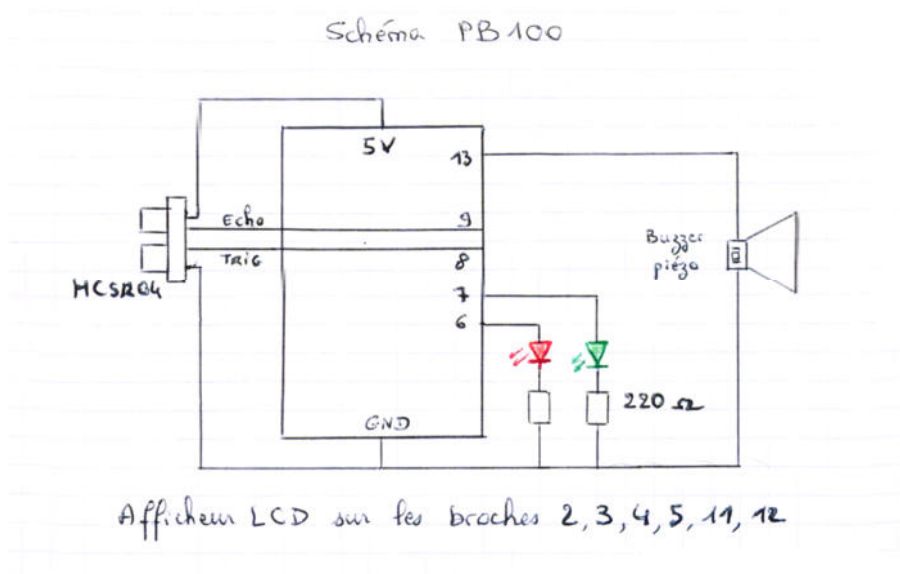
FICHE PROF

La maquette pédagogique PB100 :



Photo n°1 : La maquette pédagogique PB100 est composée d'un microcontrôleur Arduino™ (accessible à l'intérieur du boîtier) relié à un émetteur-récepteur à ultrasons (visible à l'extérieur), à deux DEL, un buzzer et un afficheur LCD. Sur cette photo, la maquette est reliée par un cordon à un ordinateur contenant les logiciels mBlock et Arduino afin de téléverser les programmes réalisés par les élèves.

Alimentation électrique : L'ordinateur sert d'alimentation électrique via le port USB, néanmoins, lorsque le programme est téléversé, les élèves peuvent utiliser la maquette en auto-alimentation (pile intégrée) dans le cadre de leurs **mesures** (distances et/ou de temps de vol et/ou célérité de l'onde).



ANNEXE 2 : Logiciels

FICHE PROF

Le logiciel mBlock :

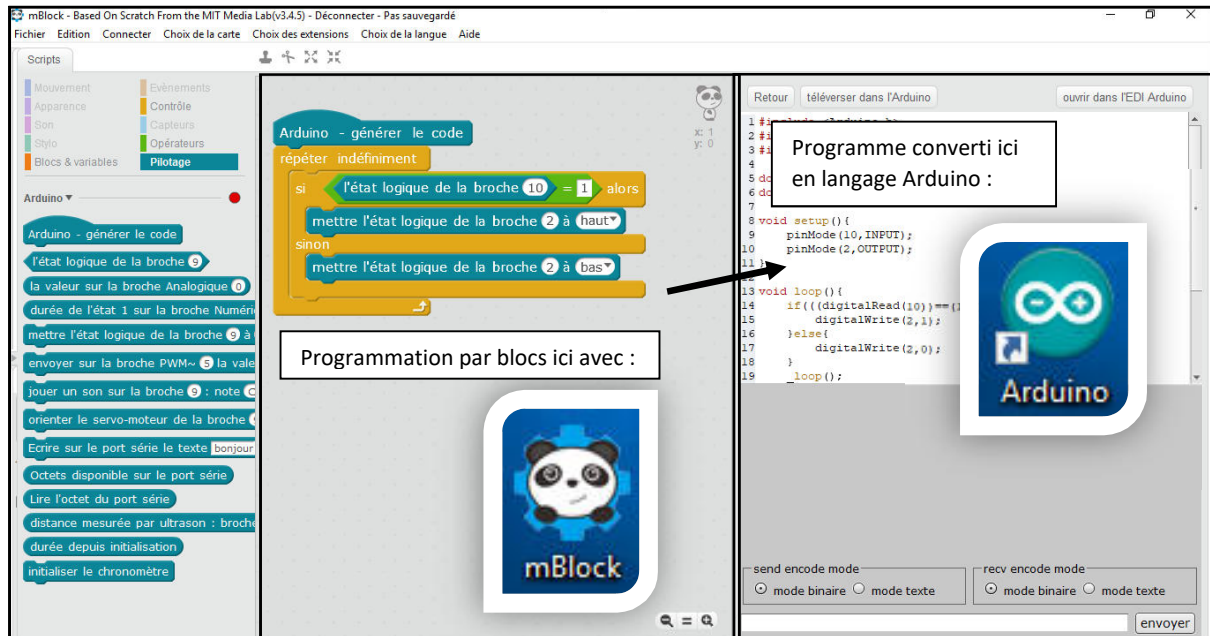
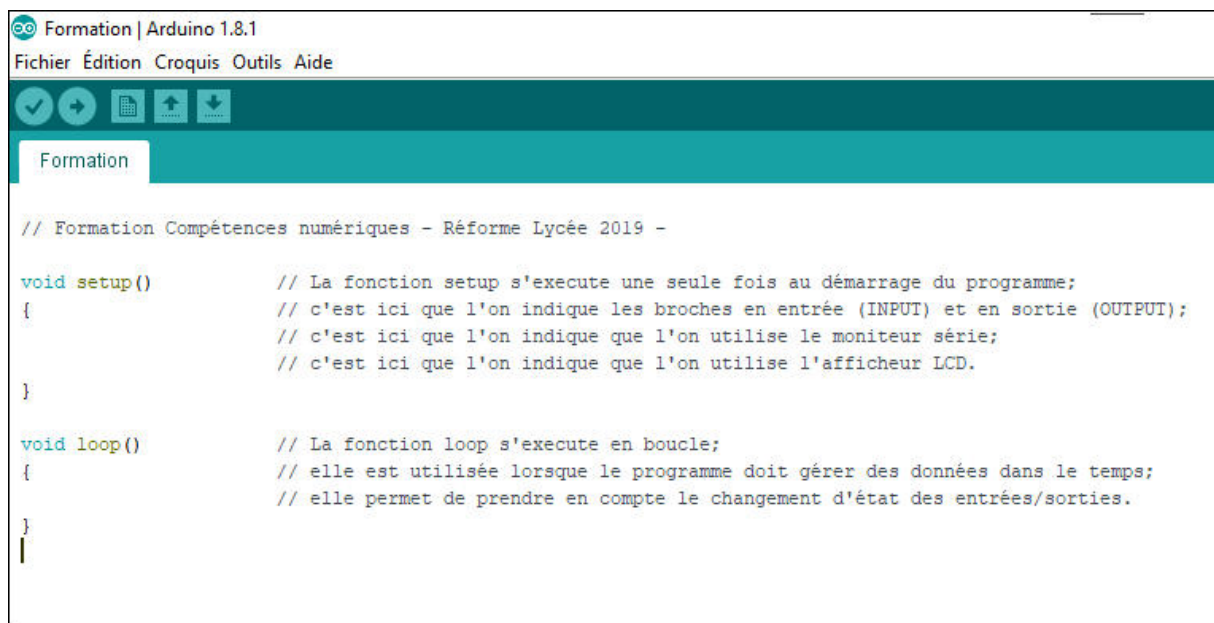


Photo n°2 : Un exemple simple de programmation du microcontrôleur Arduino™ avec mBlock.

L'interface Arduino (IDE Arduino)



ANNEXE 3**FICHE PROF****Liste des Programmes Arduino
avec leurs rôles****Séance n°1 : Simulation du radar de recul d'une voiture.****Programme_prof : dans maquette prof (pour la situation déclenchante).**

L'écran LCD de la maquette PB100 affiche la distance qui sépare le dispositif d'un obstacle.

Les signaux sonores et lumineux sont activés :

- Pour $d > 100$ cm, la DEL rouge est éteinte, la DEL verte est allumée, aucun signal sonore.
- Pour $100 \text{ cm} > d > 50$ cm, la DEL rouge est allumée, la DEL verte est éteinte, et un signal sonore est émis.
- Pour $50 \text{ cm} > d > 0$ cm, la DEL rouge est allumée, la DEL verte est éteinte, le signal sonore est plus rapide.

Programme_2 : dans maquette élève

L'écran LCD de la maquette PB100 affiche le temps de vol aller-retour entre le dispositif et un obstacle.

Les signaux sonores et lumineux sont désactivés.

Séance n°2 : Détermination de la célérité d'une onde à l'aide d'un microcontrôleur.**Programme_2 : dans maquette élève**

L'écran LCD de la maquette PB100 affiche le temps de vol aller-retour entre le dispositif et un obstacle.

Les signaux sonores et lumineux sont désactivés.

Séance n°3 : Détermination d'une distance à l'aide d'un microcontrôleur.**Programme_3_NOM :****Programmation : calcul et affichage d'une distance.**

Les élèves modifient et complètent le **Programme_2** pour calculer et afficher la distance entre le dispositif et un obstacle.

Ils renomment leur programme **Programme_3_NOM**.

Programme_31_NOM : prolongement 1***Programmation : calcul et affichage d'une distance + un signal lumineux si l'obstacle est trop près.**

Les élèves complètent leur **Programme_3_NOM** afin d'allumer la DEL rouge si l'obstacle est à une distance inférieure à 50 cm. Sinon, la DEL verte est allumée.

Ils renomment leur programme **Programme_31_NOM**.

Programme_32_NOM : prolongement 2***Programmation : calcul et affichage d'une distance + signal lumineux + signal sonore si l'obstacle est trop près.**

Les élèves complètent leur **Programme_31_NOM** afin d'allumer la DEL rouge et d'émettre un signal sonore si l'obstacle est à une distance inférieure à 50 cm. Sinon, la DEL verte est allumée et il n'y a pas de son.

Ils renomment leur programme **Programme_32_NOM**.

Séance n°4 : Influence de la température de l'air sur la propagation d'une onde sonore.**Programme_2 :**

Les élèves téléversent le **Programme_2** dans la maquette PB100 et étudient l'influence de la température de l'air sur le temps de vol d'une onde.

Séance n°1

Présentation de la séance n°1

FICHE PROF

Activité documentaire et découverte du matériel expérimental

Objectif : Analyser le fonctionnement d'un radar de recul et s'approprier un dispositif comportant un microcontrôleur.

Situation déclenchante

Le Programme_prof (ANNEXE 2) est téléversé dans la maquette pédagogique PB100, pour la démo prof. Le professeur simule ainsi le radar de recul d'une voiture.

L'afficheur indique la distance entre le dispositif et un obstacle. Les DEL et le buzzer de la maquette prof sont actifs.

Le programme_2 (ANNEXE 2) est téléversé dans chacune des maquettes des élèves.

Chaque groupe d'élèves observe le fonctionnement de sa maquette.

L'afficheur indique le temps de vol aller-retour d'une onde ultrasonore entre le dispositif et un obstacle. Les DEL et le buzzer ne sont pas actifs.



Problématique 1

Un échange entre l'enseignant et la classe peut conduire à dégager les problématiques suivantes :

Comment fonctionne un « radar de recul » de voiture ?

Comment fabriquer un tel dispositif avec un microcontrôleur ?

Organisation de la séance n°1 :

Étape 1 : Activité documentaire « Principe de fonctionnement d'un radar de recul » (Compétences s'APPROPRIER /ANALYSER)

En croisant ses connaissances et compétences acquises au collège, puis en 2^{nde} et en s'aidant des documents fournis, l'élève se familiarise avec la maquette pédagogique PB100 (ou tout autre dispositif réalisé par l'enseignant) pour comprendre le fonctionnement d'un radar de recul.

Il répond ensuite à 3 questions afin de :

- **schématiser** une situation faisant apparaître la propagation d'une onde progressive ;
- **analyser** le schéma réalisé pour en déduire une distance aller-retour ;
- **calculer** la vitesse de propagation du son dans l'air en s'appuyant sur les deux réponses précédentes.

Étape 2 : Acticité expérimentale « Principe de fonctionnement de la maquette PB100 » (Compétences s'APPROPRIER /ANALYSER)

L'élève doit **schématiser** et **décrire** le fonctionnement d'un télémètre à ultrasons fonctionnant grâce à un microcontrôleur.

Étape 3 (facultative) : Activité expérimentale « Réalisation d'un radar de recul » (Compétences REALISER)

Le professeur décidera de faire réaliser le circuit électronique, entièrement, ou de manière partielle, ou pas du tout selon les profils des élèves ou du temps dont il dispose.

Activité documentaire et découverte du matériel expérimental

Objectif : Analyser le fonctionnement d'un radar de recul et s'approprier un dispositif comportant un microcontrôleur.

Situation déclenchante

Le professeur vient de vous présenter une maquette pédagogique simulant le radar de recul d'une voiture.

L'afficheur indiquait la distance entre le dispositif et un obstacle. Les DEL et le buzzer étaient actifs.

Le programme n°1 (ANNEXE 2) a été téléversé dans chacune des maquettes des élèves.

Chaque groupe d'élèves observe le fonctionnement de sa maquette.

L'afficheur indique le temps de vol aller-retour d'une onde ultrasonore entre le dispositif et un obstacle. Les DEL et le buzzer ne sont pas actifs.



Problématique 1

Comment fonctionne un radar de recul de voiture ? (Étapes 1 et 2)

Peut-on en fabriquer un avec un microcontrôleur ? (Étape 3)

Déroulement de la séance n°1 :

- Étape 1 : Activité documentaire « Principe de fonctionnement d'un radar de recul »
(Compétences s'APPROPRIER /ANALYSER)
- Étape 2 : Activité expérimentale « Analyse d'un radar de recul comportant un microcontrôleur ».
(Compétences s'APPROPRIER /ANALYSER)
- Étape 3 (facultative) : Activité expérimentale « Réalisation d'un radar de recul »
(Compétence REALISER)



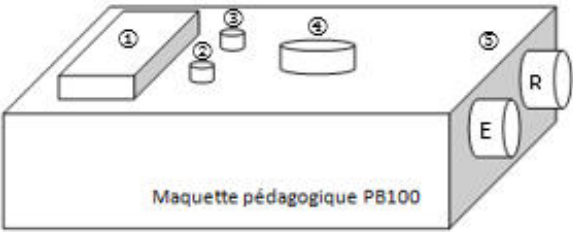

Séance n°1

FICHE ELEVE (2/4)

Étape 1 : Activité documentaire « Principe de fonctionnement d'un radar de recul »
(Compétences s'APPROPRIER /ANALYSER/REALISER)

À l'aide des documents ci-dessous, analysez le fonctionnement du dispositif expérimental fourni par le professeur, puis répondez aux questions de la page suivante.

Documents

<p>Doc 1</p> <p>L'aide au stationnement est un équipement automobile indiquant au conducteur la proximité d'un obstacle derrière son véhicule.</p> 	<p>Doc 2 Principe de l'aide au stationnement</p> <p>L'aide au stationnement se compose d'un ou plusieurs capteurs intégrés dans le parechoc arrière, le « radar de recul » et d'un dispositif transmettant l'information au conducteur, le plus souvent un signal sonore.</p> <p>Le radar émet une onde éventuellement réfléchiée par un obstacle proche et le circuit électronique détermine sa distance.</p> 
<p>Doc 3 Modélisation</p> <p>On modélise une voiture par une maquette équipée d'un capteur émetteur-récepteur à ultrasons et d'un microcontrôleur Arduino™. Ce boîtier est également composé de deux diodes électroluminescentes (1 DEL verte et 1 DEL rouge), d'un buzzer et d'un afficheur.]</p>  <ul style="list-style-type: none"> ① afficheur ② DEL verte ③ DEL rouge ④ buzzer ⑤ capteur émetteur-récepteur à ultrasons <p>E : émetteur R : récepteur © carte Arduino (à l'intérieur de la boîte)</p>	
<p>Doc 4 Chaîne de transmission de l'information de la maquette</p>  <p>Les ultrasons sont de même nature que les sons mais inaudibles pour l'oreille humaine.</p>	

QUESTIONS

- 1) Schématisez la situation du document 2 en faisant apparaître la progression des ondes ultrasonores depuis l'émetteur jusqu'au récepteur.



- 2) La voiture se trouve à 1,70 m d'un obstacle. Montrez que la distance parcourue par l'onde ultrasonore après un aller-retour est de 3,40 m lorsque l'écho revient au parechoc.



- 3) Lorsque le parechoc est situé à 1,70 m d'un mur, l'onde revient à la voiture 10 ms après son émission. En déduire la célérité des ondes ultrasonores dans l'air ?



Séance n°1


FICHE ELEVE (4/4)

Étape 2 : Acticité expérimentale « Principe de fonctionnement de la maquette PB100 »
(Compétences s’APPROPRIER /ANALYSER)

Téléversez le **Programme_2** dans la maquette PB100 et observez son fonctionnement lorsque vous augmentez ou diminuez la distance entre le capteur à ultrasons et un obstacle.

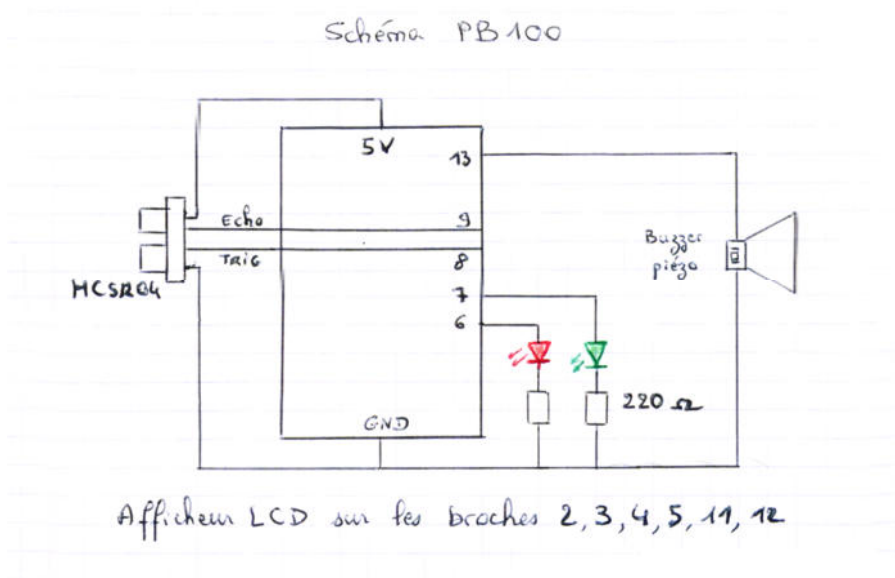
Qu’indique l’afficheur de la maquette lorsqu’elle est à 1 mètre de l’obstacle ?

Schématisez et **décrivez** le fonctionnement du télémètre à ultrasons prêté par le professeur et fonctionnant grâce à un microcontrôleur.



Étape 3 (facultative) : Activité expérimentale « Réalisation d’un télémètre à ultrasons »
(Compétences REALISER)

Si le professeur te le propose, REALISE le circuit schématisé ci-dessous. Sinon, passe directement aux activités de la séance n°3 avec le dispositif fourni par le professeur.



Il existe 2 options de visualisation des mesures réalisées par le microcontrôleur :

- Utiliser un afficheur LCD (voir maquette PB100)
- ou bien utiliser le moniteur série de l’interface Arduino.

Séance n°2

Présentation de la séance n°2

FICHE PROF

Activité expérimentale

Capacité exigible (BO 1^{ère}) :

« Déterminer la célérité d'une onde à l'aide d'un microcontrôleur. »

Objectif : Pratiquer une démarche expérimentale pour déterminer la célérité d'une onde à l'aide d'un microcontrôleur.

Situation déclenchante

Idem séance 1

Problématique 2

Un échange entre l'enseignant et la classe peut conduire à dégager la problématique suivante :

Comment déterminer la célérité des ondes ultrasonores avec la maquette PB100 (ou un dispositif similaire) ?

**Organisation de la séance n°2 : (Compétences RAIS / REA / VAL / COM) :****Activité expérimentale « Détermination de la célérité d'une onde »**

Matériel : Mise à disposition d'une maquette PB100 « radar de recul » (ou d'un dispositif similaire réalisé par les professeurs ou leurs aides laboratoires, voire les élèves dans le cadre de la séance précédente), d'un mètre et d'un ordinateur avec le logiciel Arduino (pour téléverser le **Programme_2** dans le microcontrôleur si cela n'a pas déjà été fait).

À l'aide du matériel dont il dispose, l'élève propose un protocole expérimental pour déterminer la vitesse de propagation des ultrasons dans l'air. Après avoir fait part de ses intentions au professeur, il met en place son expérience, réalise les mesures, les compare avec les valeurs théoriques et rédige un compte rendu.

Intérêts pratiques de cette activité :

- Pratiquer une démarche expérimentale (avec les compétences associées) pour déterminer la célérité d'une onde avec un dispositif utilisant un microcontrôleur.

Activité expérimentale

Capacité exigible (BO 1^{ère}) :

« Déterminer la célérité d'une onde à l'aide d'un microcontrôleur. »

Objectif : Pratiquer une démarche expérimentale pour déterminer la célérité d'une onde à l'aide d'un microcontrôleur.

Problématique 2

Comment déterminer la célérité des ondes ultrasonores avec la maquette PB100 (ou un dispositif similaire) ?

La maquette pédagogique PB100 :



Photo n°1 : La maquette pédagogique PB100 est composée d'un microcontrôleur Arduino™ (accessible à l'intérieur du boîtier) relié à un émetteur-récepteur à ultrasons (visible à l'extérieur), à deux DEL, un buzzer et un afficheur LCD. Sur cette photo, la maquette est reliée par un cordon à un ordinateur contenant les logiciels mBlock et Arduino afin de téléverser les programmes réalisés par les élèves.

Alimentation électrique : L'ordinateur sert d'alimentation électrique via le port USB, néanmoins, lorsque le programme est téléversé, les élèves peuvent utiliser la maquette en auto-alimentation (pile intégrée) dans le cadre de leurs **mesures** (distances et/ou de temps de vol et/ou célérité de l'onde).

Séance n°2**FICHE ELEVE (2/3)****Partie A Proposer un protocole expérimental (compétence ANALYSER)**

A l'aide du matériel mis à ta disposition, propose un protocole expérimental pour déterminer la vitesse de propagation des ultrasons dans l'air.

APPEL n°1 : APPELLE LE PROFESSEUR POUR VALIDER TON PROTOCOLE EXPERIMENTAL OU EN CAS DE DIFFICULTES.

Partie B Mettre en œuvre du protocole expérimental (compétence REALISER)

Mets en œuvre le protocole expérimental proposé et construis le graphique permettant de déterminer la valeur de la vitesse de propagation des ultrasons dans l'air.

APPEL n°2 : APPELLE LE PROFESSEUR POUR LUI PRESENTER LE GRAPHIQUE OBTENU OU EN CAS DE DIFFICULTES.

Partie C Exploiter un graphique (compétence ANALYSER)

De ta représentation graphique précédente, déduis la valeur de la vitesse de propagation des ultrasons dans l'air.

APPEL n°3 : APPELLE LE PROFESSEUR POUR LUI PRESENTER TON RESULTAT OU EN CAS DE DIFFICULTES.

Partie D Valider un résultat expérimental en comparant avec une valeur théorique (compétence VALIDER)

Recherche dans des tables la valeur de la vitesse de propagation du son dans l'air et compare avec ton résultat expérimental. Calcule en particulier l'erreur relative et cherche les causes d'un éventuel écart.

APPEL n°4 : APPELLE LE PROFESSEUR POUR LUI PRESENTER TON RESULTAT OU EN CAS DE DIFFICULTES.

Partie E Rédiger un compte-rendu (compétence COMMUNIQUER)

Rédige un compte-rendu de ta démarche expérimentale en respectant les consignes données par ton professeur pour réaliser cette tâche.

APPEL n°5 : DONNE TON CAHIER DE LABORATOIRE AU PROFESSEUR (pour correction) UNE SEMAINE AU PLUS TARD APRES LE TP

Séance n°2

FICHE ELEVE (3/3)

FICHE d'autoévaluation

Compétences travaillées		Critères de réussite	Partie	Niveau de maîtrise estimé par l'élève			
				A	B	C	D
Compétences de la démarche scientifique							
APP		-	Séance 1				
RAIS		-	Partie A				
REA	Planifier une tâche expérimentale, organiser son espace de travail, garder des traces des étapes suivies et des résultats obtenus.	- Mon espace de travail est bien rangé - Avant de réaliser une expérience, je - Je note toutes mes mesures et j'organise dans un tableau	Partie B				
ANA		-	Partie C				
VAL		-	Partie D				
S'approprier des outils et des méthodes							
REA		-	Partie C				
Pratiquer des langages							
COM	Utiliser la langue française en cultivant précision, richesse de vocabulaire et syntaxe pour rendre compte des observations, expériences, hypothèses et conclusions.	- J'ai écrit un compte-rendu clair et agréable à lire (deux pages maximum).	Partie E				

FICHE à compléter par le professeur !
 Le but de cette fiche, destinée aux élèves, est de leur permettre de s'autoévaluer par compétences lors de cette séance en fonction de **critères de réussites** établis par le professeur.

Autoévaluation de l'élève
 L'élève coche la lettre correspondant à son niveau de maîtrise estimé.

A (Excellent) = 5 points

B (Très satisfaisant) = 4 points

C (Satisfaisant) = 2 points

D (à consolider) = 1 point

Séance n°3

Présentation de la séance n°3

FICHE PROF

Activité numérique

Capacités exigibles (BO 1^{ère}) :

« Déterminer une distance à l'aide d'un microcontrôleur. »

Mesurer et traiter un signal au moyen d'une interface ou d'un microcontrôleur.

Objectif : Programmer le microcontrôleur d'un télémètre à ultrasons pour déterminer et afficher une distance.

Situation déclenchante :

**SANTE ET SECURITE**

Réduire les risques des quais de chargement.



Les signaux sonores sont utiles dans un véhicule pour alerter le conducteur de la proximité d'un obstacle mais cela ne suffit pas aux chauffeurs de poids lourds qui, lorsqu'ils reculent, doivent positionner l'arrière de leur camion à quelques centimètres seulement du quai de chargement ! Certes les webcams arrière qui équipent aujourd'hui leur véhicule sont pratiques, mais connaître la distance (au centimètre près) leur serait d'une grande aide complémentaire.

Problématique 3 :

Comment mesurer et afficher la distance entre l'arrière du camion et le quai ?

Organisation de la séance :

- **S'approprier** : L'élève (ou groupe d'élèves) prend connaissance du programme Arduino de la 1^{ère} séance (**Programme_2**).
- **Analyser/Raisonner** : L'élève repère les différents blocs de programmation du **Programme_2** (même logique de structure que le langage Python déjà rencontré en 2^{nde}) ; il repère les différentes positions du paramètre physique « t » qui est mesuré et affiché sur l'écran LCD de la maquette PB100.
- **Réaliser** : L'élève propose une modification du programme pour calculer et afficher sur l'écran LCD la distance d qui sépare la maquette d'un obstacle. Il modifie le **Programme_2**, le renomme **Programme_3_NOM** et le téléverse dans le microcontrôleur.
- **Valider** : L'élève vérifie expérimentalement que son programme affiche la bonne distance. En cas de réussite, toutes les compétences de la démarche expérimentale sont validées pour cette activité ainsi que la compétence numérique « utiliser un langage de programmation ».
- **Communiquer** : L'élève cite plusieurs exemples d'utilisation de ce dispositif dans différents domaines (transports, santé...)

```

Programme1_activite1_affiche_t_OK

// Formation Compétences numériques - Réforme Lycée 2019 -
// Programme et maquette réalisés par patrice.buffet@ac-amiens.fr
// Maquette PB100 : Déterminer la célérité d'une onde à l'aide d'un microcontrôleur

#include <LiquidCrystal.h>
LiquidCrystal EcranLCD(12, 11, 5, 4, 3, 2);

void setup()
{
  EcranLCD.begin(16, 2);
  pinMode(8, OUTPUT);
  pinMode(9, INPUT);
  digitalWrite(8, LOW);
}

void loop()
{
  digitalWrite(8, HIGH);
  delayMicroseconds(10);
  digitalWrite(8, LOW);

  unsigned long dureear = pulseIn(9, HIGH);

  EcranLCD.clear();
  EcranLCD.setCursor(0, 0);
  EcranLCD.print("temps A-R onde");
  EcranLCD.setCursor(0, 1);
  EcranLCD.print(" t = ");
  EcranLCD.setCursor(5, 1);
  EcranLCD.print(dureear/1000.0);
  EcranLCD.setCursor(10, 1);
  EcranLCD.print("ms");
  delay(1000);
}
    
```

Importation bibliothèques

Communication avec l'écran LCD
Initialisation des états des broches

La BOUCLE !

Affichage sur l'écran LCD

CORRECTION
du repérage dans
Programme_2

Programme2_activite2_affiche_d_correction

```

// Formation Compétences numériques - Réforme Lycée 2019 -
// Programme et maquette réalisés par patrice.buffet@ac-amiens.fr
// Maquette PB100 : Déterminer une distance à l'aide d'un microcontrôleur

#include <LiquidCrystal.h> // on importe la bibliothèque.
LiquidCrystal EcranLCD(12, 11, 5, 4, 3, 2); // on crée l'objet EcranLCD, c'est l'afficheur LCD de la maquette PB100,
// il est relié aux broches 12, 11, 5, 4, 3 et 2 de l'Arduino.

void setup() // La fonction setup s'exécute une seule fois au démarrage
{
  EcranLCD.begin(16, 2); // on initialise la communication en 16 caractères et 2 lignes).
  pinMode(8, OUTPUT); // La broche 8 de la carte Arduino est configurée en sortie (pour l'émission d'ondes ultrasonores).
  pinMode(9, INPUT); // La broche 9 de la carte Arduino est configurée en entrée (pour la réception de la salve émise par E).
  digitalWrite(8, LOW);
}

void loop() // La fonction loop s'exécute en boucle
{
  digitalWrite(8, HIGH); // met la broche 8 TRIGGER à l'état haut pendant 10 microsecondes, puis envoi une salve d'ondes ultrasonores.
  delayMicroseconds(10);
  digitalWrite(8, LOW); // met la broche 8 TRIGGER à l'état bas, en attendant la prochaine boucle.

  unsigned long dureear = pulseIn(9, HIGH); // Le dispositif reçoit l'ECHO de la salve sur la broche 9, mesure le temps de vol Aller-Retour en microsecondes,
  // et enregistre la valeur dans la variable nommée ici "dureear" (=durée aller retour).

  unsigned long distance = dureear/58.8 ; // teste la différence entre la mesure et (int ou unsigned long) Rq : variable dont on peut se dispenser

  EcranLCD.clear(); // Efface l'écran
  EcranLCD.setCursor(0, 0); // Positionne le curseur à l'obstacle en cm
  EcranLCD.print("distance"); // Écrit l'unité de la mesure "cm"
  EcranLCD.setCursor(0, 1); // Positionne le curseur Colonne 11, Ligne 1
  EcranLCD.print(" d = ");
  EcranLCD.setCursor(5, 1); // Positionne le curseur Colonne 11, Ligne 1
  EcranLCD.print(distance); // Écrit l'unité de la mesure "cm"
  EcranLCD.setCursor(11, 1); // Positionne le curseur Colonne 11, Ligne 1
  EcranLCD.print("cm"); // Écrit l'unité de la mesure "cm"
  delay(1000); // Petite pause de 1 seconde avant de faire une autre mesure (= une autre boucle ici).
}

```

CORRECTION
Programme_3PROPOSITION de
MODIFICATION de programme_2
pour afficher d (en cm)
au lieu de t (en ms)

Programme3_activite2_affiche_d_et_DEL_correction\$

```
// Formation Compétences numériques - Réforme Lycée 2019 -
// Programme et maquette réalisés par patrice.bufferet@ac-amiens.fr
// Maquette PBI00 : Déterminer une distance à l'aide d'un microcontrôleur + signal lumineux

#include <LiquidCrystal.h> // on importe la bibliothèque.
LiquidCrystal EcranLCD(12, 11, 5, 4, 3, 2); // on crée l'objet EcranLCD, c'est l'afficheur LCD de la maquette PBI00
// il est relié aux broches 12, 11, 5, 4, 3 et 2 de l'Arduino

#define DEL_ROUGE 6
#define DEL_VERT 7

void setup() // La fonction setup s'exécute une seule fois
{
  EcranLCD.begin(16, 2); // on initialise la communication entre l'Arduino et l'afficheur LCD (16 caractères sur 2 lignes).
  pinMode(8, OUTPUT); // La broche 8 de la carte Arduino est reliée à un émetteur de salves d'ondes ultrasonores).
  pinMode(9, INPUT); // La broche 9 de la carte Arduino reliée à un récepteur de salves d'ondes ultrasonores (qui reçoit et mesure le temps de vol de la salve émise par E).
  digitalWrite(8, LOW);
  pinMode(6, OUTPUT);
  pinMode(7, OUTPUT);
  pinMode(13, OUTPUT);
}

void loop() // La fonction loop s'exécute en boucle.
{
  digitalWrite(8, HIGH); // met la broche 8 TRIGGER à l'état haut pendant 10 microsecondes, puis envoi la salve d'ondes ultrasonores.
  delayMicroseconds(10);
  digitalWrite(8, LOW); // met la broche 8 TRIGGER à l'état bas, en attendant la prochaine boucle.

  unsigned long dureear = pulseIn(9, HIGH); // Le dispositif reçoit l'ECHO de la salve sur la broche 9. Le temps de vol Aller-Retour en microsecondes,
  // et enregistre la valeur dans la variable dureear.

  unsigned long distance = dureear/58.8 ; // test : variable dont on peut se dispenser

  if (distance > 100 ){
    digitalWrite(DEL_ROUGE,LOW);
    digitalWrite(DEL_VERT,HIGH);
  }

  else if ( distance <= 100 ){
    digitalWrite(DEL_ROUGE,HIGH);
    digitalWrite(DEL_VERT,LOW);
  }

  EcranLCD.clear(); // Efface l'écran
}
```

CORRECTION
Programme_31

AIDE éventuelle



mBlock

PROPOSITION de
MODIFICATION de programme_31
pour déclencher un signal
lumineux

Programme4_activite2_affiche_d_et_DEL_et_son_correction\$

```
// Formation Compétences numériques - Réforme Lycée 2019 -
// Programme et maquette réalisés par patrice.buffet@ac-amiens.fr
// Maquette PBL00 : Déterminer une distance à l'aide d'un microcontrôleur + signal lumineux + signal sonore

#include <LiquidCrystal.h> // on importe la bibliothèque.
LiquidCrystal EcranLCD(12, 11, 5, 4, 3, 2); // on crée l'objet EcranLCD, c'est l'afficheur LCD de la maquette PBL00,
// il est relié aux broches 12, 11, 5, 4, 3 et 2 de l'Arduino.

#define DEL_ROUGE 6
#define DEL_VERT 7

void setup() // La fonction setup s'exécute une seule fois au démarrage
{
  EcranLCD.begin(16, 2); // on initialise la communication entre l'Arduino et l'écran LCD
  pinMode(8, OUTPUT); // La broche 8 de la carte Arduino est reliée à l'Emetteur (broche par E).
  pinMode(9, INPUT); // La broche 9 de la carte Arduino reliée au Récepteur (broche par E).
  digitalWrite(8, LOW);
  pinMode(6, OUTPUT);
  pinMode(7, OUTPUT);
  pinMode(13, OUTPUT);
}

void loop() // La fonction loop s'exécute en boucle.
{
  digitalWrite(8, HIGH); // met la broche 8 TRIGGER à l'état haut pendant 10 microsecondes, puis envoi une salve
  delayMicroseconds(10);
  digitalWrite(8, LOW); // met la broche 8 TRIGGER à l'état bas, en attendant la prochaine boucle.

  unsigned long dureear = pulseIn(9, HIGH); // Le dispositif reçoit l'ECHO de la salve sur la broche 9, mesure le temps de vol Aller-Retour
  // et enregistre la valeur dans la variable nommée ici "dureear" (durée aller retour).

  unsigned long distance = dureear/58.8 ; // teste la différence entre la distance mesurée et la distance cible (Rq : variable dont c

  if ( distance < 20 ){
    digitalWrite(DEL_ROUGE,HIGH);
    digitalWrite(DEL_VERT,LOW);
    tone(13,750,1000);
  }

  else if ( distance < 100 ){
    digitalWrite(DEL_ROUGE,HIGH);
    digitalWrite(DEL_VERT,LOW);
    tone(13,650,125);
  }

  else if ( distance > 100 ){
    digitalWrite(DEL_ROUGE,LOW);
    digitalWrite(DEL_VERT,HIGH);
  }

  EcranLCD.clear(); // Efface l'écran
}
```

CORRECTION
Programme_32

PROPOSITION de
MODIFICATION de programme_31
pour déclencher également un
signal sonore

AIDES éventuelles



mBlock

« Jouer un son sur la broche 13 »

Ou bien

Fonction tone Arduino sur www

Activité numérique

Capacités exigibles (BO 1^{ère}) :

« Déterminer une distance à l'aide d'un microcontrôleur. »
 Mesurer et traiter un signal au moyen d'une interface ou d'un microcontrôleur.

Objectif : Programmer le microcontrôleur d'un télémètre à ultrasons pour déterminer et afficher une distance.

Situation déclenchante :



SANTE ET SECURITE

Réduire les risques des quais de chargement.



Les signaux sonores sont utiles dans un véhicule pour alerter le conducteur de la proximité d'un obstacle mais cela ne suffit pas aux chauffeurs de poids lourds qui, lorsqu'ils reculent, doivent positionner l'arrière de leur camion à quelques centimètres seulement du quai de chargement ! Certes les webcams arrière qui équipent aujourd'hui leur véhicule sont pratiques, mais connaître la distance (au centimètre près) leur serait d'une grande aide complémentaire.

Problématique 3 :

Comment mesurer et afficher la distance entre l'arrière du camion et le quai ?

Programmation :

Le microcontrôleur d'un télémètre à ultrasons mesure des durées de propagation d'une onde entre son émission et sa réception par le capteur du dispositif.

Avec le **programme_2**, le microcontrôleur ARDUINO™ ordonne l'affichage de cette durée.

Le **but** de cette séance est de modifier le **programme_2** afin de **mesurer** et d'**afficher** la **distance** entre le capteur et l'obstacle.

Partie A Analyse rapide d'un langage de programmation (Compétences S'APPROPRIER, ANALYSER, RAISONNER)

- 1) Prends connaissance du programme Arduino ci-dessous téléversé dans le microcontrôleur de ta maquette (**Programme_2**).
- 2) Repère et **encadre** les différents blocs de programmation du **Programme_2** (même logique de structure que le langage Python déjà rencontré en 2^{nde}).
- 3) Repère et **entoure** les différentes positions du paramètre physique « t » mesuré et affiché sur l'écran LCD de la maquette PB100.

```

#include <LiquidCrystal.h>           // on importe la bibliothèque.
LiquidCrystal EcranLCD(12, 11, 5, 4, 3, 2); // on crée l'objet EcranLCD, c'est l'afficheur LCD de la maquette PB100,
                                        // il est relié aux broches 12, 11, 5, 4, 3 et 2 de l'Arduino.

void setup()                          // La fonction setup s'exécute une seule fois au démarrage du programme.
{
  EcranLCD.begin(16, 2);              // on initialise la communication entre l'Arduino et l'afficheur (16 colonnes et 2 lignes).
  pinMode(8, OUTPUT);                // La broche 8 de la carte Arduino est reliée à l'Emetteur "E" (déclencheur de salves d'ondes ultrasonores).
  pinMode(9, INPUT);                 // La broche 9 de la carte Arduino reliée au Récepteur "R" (reçoit et mesure le temps de vol de la salve émise par E).
  digitalWrite(8, LOW);
}

void loop()                            // La fonction loop s'exécute en boucle.
{
  digitalWrite(8, HIGH);              // met la broche 8 TRIGGER à l'état haut pendant 10 microsecondes, puis envoi une salve d'ondes ultrasonores.
  delayMicroseconds(10);
  digitalWrite(8, LOW);              // met la broche 8 TRIGGER à l'état bas, en attendant la prochaine boucle.

  unsigned long dureear = pulseIn(9, HIGH); // Le dispositif reçoit l'ECHO de la salve sur la broche 9, mesure le temps de vol Aller-Retour en microsecondes,
                                        // et enregistre la valeur dans la variable nommée ici "dureear" (=durée aller retour).

  EcranLCD.clear();                  // Efface l'écran
  EcranLCD.setCursor(0, 0);          // Positionne le curseur Colonne 0, Ligne 0
  EcranLCD.print("temps A-R onde");  // Ecrit "temps A-R onde"
  EcranLCD.setCursor(0, 1);          // Positionne le curseur Colonne 0, Ligne 1
  EcranLCD.print(" t = ");           // Ecrit " t = "
  EcranLCD.setCursor(5, 1);          // Positionne le curseur Colonne 5, Ligne 1
  EcranLCD.print(dureear/1000.0);     // Affiche la mesure du temps de vol de l'onde en millisecondes.
  EcranLCD.setCursor(10, 1);         // Positionne le curseur Colonne 10, Ligne 1
  EcranLCD.print("ms");              // Ecrit l'unité de la mesure "ms"
  delay(1000);                       // Petite pause de 1 seconde avant de faire une autre mesure (= une autre boucle ici).
}

```


Séance n°3

FICHE ELEVE (3/4)

Partie B Expérimentation numérique (Compétences REALISER / RAISONNER / VALIDER)

- 4) Propose une **modification** du **Programme_2** pour **calculer** et **afficher** sur l'écran LCD **la distance d (en cm)** qui sépare la maquette d'un obstacle.

**APPEL n°1 : APPELE LE PROFESSEUR
POUR LUI PRESENTER LES MODIFICATIONS OU AJOUTS QUE TU PROPOSES
OU EN CAS DE DIFFICULTES**

- 5) Modifie le **Programme_2**, renomme-le **Programme_3_NOM**.
6) Téléverse ton nouveau **Programme_3_NOM** dans la maquette et valide (ou recommence !) ton travail.

**APPEL n°2 : APPELE LE PROFESSEUR
POUR LUI MONTRER LE BON FONCTIONNEMENT DE TA MAQUETTE**

Séance n°3

FICHE ELEVE (4/4)

Partie C Expérimentation numérique (Compétences RAISONNER / REALISER / VALIDER)

Pour aller plus loin ...

- 7) Propose une **modification** du **Programme_3_NOM** pour ajouter le **déclenchement d'un signal lumineux** si l'obstacle est trop près.
- 8) Modifie le **Programme_3_NOM**, renomme-le **Programme_31_NOM**.
- 9) Téléverse ton nouveau Programme dans la maquette et valide (ou recommence) ton travail.

**APPEL n°3 : APPELLE LE PROFESSEUR
POUR LUI MONTRER LE BON FONCTIONNEMENT DE TA MAQUETTE**

- 10) Propose une **modification** du **Programme_31_NOM** pour ajouter le **déclenchement d'un signal sonore** si l'obstacle est trop près.
- 11) Modifie le **Programme_31_NOM**, renomme-le **Programme_32_NOM**.
- 12) Téléverse ton nouveau Programme dans la maquette et valide (ou recommence) ton travail.

**APPEL n°4 : APPELLE LE PROFESSEUR
POUR LUI MONTRER LE BON FONCTIONNEMENT DE TA MAQUETTE**

Séance n°4

Présentation de la séance n°4

FICHE PROF





Activité expérimentale

Capacité exigible (BO 1^{ère}) :

« Illustrer l'influence du milieu sur la célérité d'une onde. »

Objectif : Pratiquer une démarche expérimentale pour illustrer, de manière qualitative et/ou quantitative, l'influence de la température de l'air sur la célérité des ondes ultrasonores.

Situation déclenchante

																	
																	
<table border="1"> <thead> <tr> <th>d (cm)</th> <th>t aller-retour (ms)</th> </tr> </thead> <tbody> <tr> <td>50</td> <td>3,07</td> </tr> <tr> <td>100</td> <td>6,03</td> </tr> <tr> <td>150</td> <td>9,23</td> </tr> </tbody> </table>	d (cm)	t aller-retour (ms)	50	3,07	100	6,03	150	9,23	<table border="1"> <thead> <tr> <th>d (cm)</th> <th>t aller-retour (ms)</th> </tr> </thead> <tbody> <tr> <td>10</td> <td>0,57</td> </tr> <tr> <td>50</td> <td>2,85</td> </tr> <tr> <td>100</td> <td>5,79</td> </tr> </tbody> </table>	d (cm)	t aller-retour (ms)	10	0,57	50	2,85	100	5,79
d (cm)	t aller-retour (ms)																
50	3,07																
100	6,03																
150	9,23																
d (cm)	t aller-retour (ms)																
10	0,57																
50	2,85																
100	5,79																

Problématique

A faire chercher et rédiger par les élèves.

Séance 4

Quelques mesures


FICHE PROF

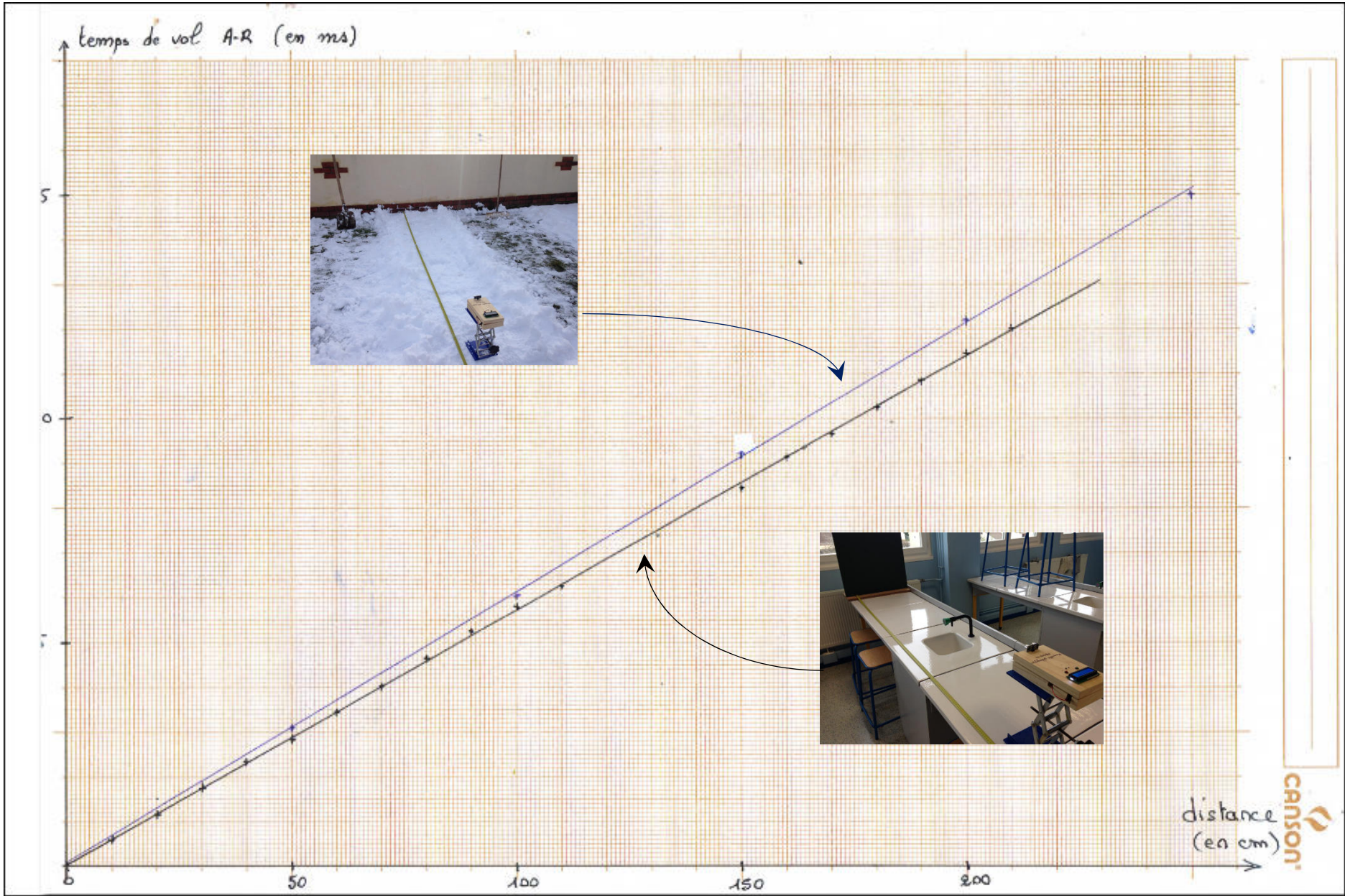


d (cm)	t aller-retour (ms)
10	0,57
50	2,85
100	5,79
150	8,47
200	11,45



d (cm)	t aller-retour (ms)
50	3,07
100	6,03
150	9,23
200	12,20
250	14,97
300	18,0






Activité expérimentale

Capacité exigible (BO 1^{ère}) :

« Illustrer l'influence du milieu sur la célérité d'une onde. »

Objectif : Pratiquer une démarche expérimentale pour illustrer, de manière qualitative et/ou quantitative, l'influence du milieu de propagation sur la célérité d'une onde.

Situation déclenchante :



d (cm)	t aller-retour (ms)
50	3,07
100	6,03
150	9,23



d (cm)	t aller-retour (ms)
10	0,57
50	2,85
100	5,79

Problématique

Proposez une problématique à cette situation déclenchante et pratiquez une démarche scientifique pour y répondre.